

# Telafi Avcısı

2. sınıftan 3. sınıfa  
geçenler için.


Yeni Nesil

**TELAFİ**

AVCISI



İndir, Çıktı Al, Uygula



Mutlu Yayıncılığın hediyesidir. Güle güle kullanın.



**MUTLU YAYINCILIK**

1

Bölme İşlemi - Bütün, Yarım, Çeyrek

MATEMATİK

Tarih: \_\_\_/\_\_\_/\_\_\_

Puan:



- Yukarıda verilen resmi inceleyiniz. Varlıkların sayılarını kutucuklara yazınız. Soruları doğru cevapla eşleştiriniz. Sonuçların üzerinde yazılı olan harfleri şifre kutucuklarındaki sembollerin altına yazarak şifreyi bulunuz.

★ Yunuslar her grupta 2 yunus olan kaç gruba ayrılırlar?

6 — S

● Deniz kabukları her grupta aynı sayıda olacak şekilde 2 gruba ayrılmıştır. Her grupta kaç tane deniz kabuğu olur?

9 — Z

◆ Resimdeki kuşlara 9 tane daha yeni kuş katılır. Bu kuşlar iki gruba ayrılır. Her grupta kaç kuş olur?

3 — I

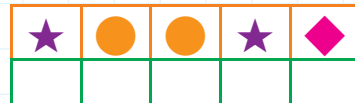
▲ Çocuk ağaçtan 5 muz toplayıp bu muzları yemiştir. Kalanları da beşerli gruplara ayırmıştır. Her grupta kaç tane muz olur?

5 — A

■ Yunuslar deniz kabuklarını kendi aralarında, her birine aynı sayıda düşecek şekilde bölüşeceklerdir. Bir yunusta kaç tane deniz kabuğu olur?

2 — D

Şifre Ne?





## TEST 1

2

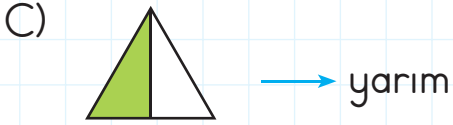
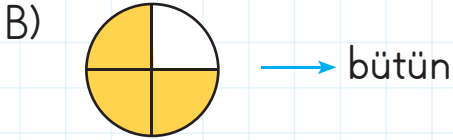
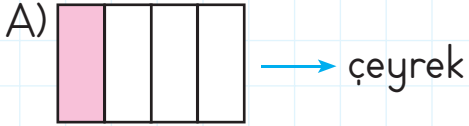
Adı: \_\_\_\_\_

Tarih: \_\_\_/\_\_\_/\_\_\_

Puan: \_\_\_\_\_




1. Aşağıda görseller ve bu görsellerin ne kadarının boyandığı gösterilmiştir. Hangi eşleştirme **yanlıştır**?




2. Bir bahçedeki 5 limon ağacının her birinde aynı sayıda limon vardır. Bu bahçedeki limon sayısı 20 ise her ağaçta kaç limon vardır?

A) 6      B) 5      C) 4


3. Akşam yemeğinde bir karpuz kesdik ve yarısını yedik. Geriye ne kadar karpuz kalmıştır?



4. Bir çiçekçide toplam 18 papatya çiçeği vardır. Her saksıdaki papatya çiçeği sayısı aynıdır ve yanda gösterilmiştir. Bu çiçekçide kaç tane saksı vardır?



A) 6      B) 3      C) 5



Umut limonata yapmak için yukarıda gösterilen kadar limon satın almıştır. Bu limonlardan 8 tanesini sıkmak için ikiye bölmüş. Kalanları da dört eşit parçaya bölmüştür. Buna göre Umut'un elinde sıkılacak kaç yarım kaç çeyrek limon vardır?



1

## Zaman Ölçme

Tarih: \_\_\_/\_\_\_/\_\_\_

Puan: \_\_\_\_\_



- Aşağıdaki yönergeleri okuyarak bulmacayı doğru kelimelerle tamamlayınız.

1. Saat yediyi çeyrek geçiyor ise, saat yediyi kaç dakika geçmiştir?
2. Saat öğleden sonra dörtte, yelkovan hangi sayının üzerindedir?
3. Analog saatlerde dakikayı gösteren kolun adı nedir?
4. Akşam dokuz buçukta yelkovan hangi sayının üzerindedir?
5. Öğleden sonra üç buçuktan yarım saat sonra, saat kaç olur?
6. 6 saat 120 dakika, kaç saate eşittir?

- Bulmacada mor, turuncu, mavi ve sarı renkli kutulara gelen harfleri aşağıdaki aynı renkteki kutulara yazınız. Şifreyi bulunuz.



## TEST 2

2

Adı: \_\_\_\_\_

Tarih: \_\_\_/\_\_\_/\_\_\_

Puan: \_\_\_\_\_



1. **Dilek:** Her sabah saat sekizi çeyrek geçe uyanırım.

Aşağıdakilerden hangisi Dilek'in uyanıldığı saattir?

A) 08.15 B) 07.45 C) 08.45

2.  1 yıl 52 haftadır.  
 2 gün 48 saattir.  
 Yarım saat 45 dakikadır.

Yukarıda verilen ifadelerin başındaki kutulara ifade doğru ise "D", yanlış ise "Y" yazılacaktır. Buna göre doğru işaretleme hangi örnekte verilmiştir?

A)  Y  D  D  
 D  D  D  
 Y  D  Y

3. Bir bilgisayardaki tarih ve saat yanında gösterilmiştir. 27 saat sonra bilgisayarda görünen tarih ve saat aşağıdakilerden hangisi olur?

Tarih: 23 Mart 2021  
 Saat: 09.10

- A)  Tarih: 23 Mart 2021  
 Saat: 11.10
- B)  Tarih: 24 Mart 2021  
 Saat: 12.10
- C)  Tarih: 24 Mart 2021  
 Saat: 10.10

4. Bir eğlence treni her sabah yarım saat boyunca temizlenmektedir. On bir günün sonunda bu macera trenini temizlemek için kaç saat harcanmıştır?

A) 10 saat B) 5 saat 30 dakika  
 C) 6 saat 30 dakika



5. Her dört senede bir, şubat ayı 29 gün olur. Bunun nedeni 1 yılın 365 gün 6 saat olmasıdır. 6 saat fazlalıklar, dört sene sonunda 1 gün olarak şubat ayına eklenir. Şubat ayının 29 gün olduğu yıllara **artık yıl** denir.

2004 yılı, artık yıldır. 27 Şubat 2004'ten 1 hafta, 3 gün, 48 saat sonra tarih ne olur?

A) 9 Mart 2004 B) 10 Mart 2004 C) 11 Mart 2004


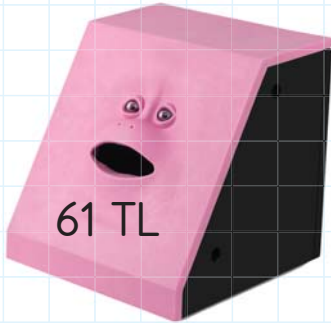
1

## Paralarımız

Tarih: \_\_\_/\_\_\_/\_\_\_

Puan: 

- Batu, Zehra, Dilan ve Cengiz'in kumbaralarındaki para miktarları aşağıda gösterilmiştir. Para miktarlarını hesaplayıp çocuklarla kumbaralarını eşleştiriniz.



TEST 3

2

Adı: \_\_\_\_\_

Tarih: \_\_\_/\_\_\_/\_\_\_


Puan: \_\_\_\_\_



1. Sevgi, marketteki kahvaltılık gevreği almak için cüzdanındaki paranın yarısından 2 TL fazla ödemiştir. Bu ürünün fiyatı 8 TL ise Sevgi'nin kumbarasında alışveriş yapmadan önce kaç lira vardı?






- A) 6 TL B) 8 TL C) 12 TL

2.     
1 kg = 5 TL    1 kg = 3 TL    1 kg = 2 TL

Ömer Bey pazara gitmiş ve bir çeşit meyveden 3 kg almıştır. Pazarcıya 20 TL verdiğinde 11 TL para üstü almıştır.

Buna göre Ömer Bey hangi meyveyi almıştır?

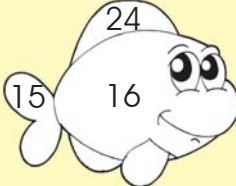
- A)  B)  C) 

3.     
7 TL 25 Kr.    6 TL 75 Kr.    5 TL 50 Kr.

Bir evcil hayvan dükkânında satılan köpek maması, kedi maması ve kuş yemi fiyatı yukarıda gösterilmiştir. Bir müşteri kuşu için yem satın almışsa satıcıya ne kadar para ödemelidir?

- A)   
B)   
C) 



4. 

3 düzine kalem  
36 TL ise 2 düzine  
kalem kaç liradır?

Benim 43 liram var.  
Kardeşimin parası  
benimkinin 13 eksik-  
ğinin yarısı kadardır.  
Kardeşimin parası  
ne kadardır?

1 demet maydanoz  
ve 1 kg bezelye 8  
liradır. Buna göre, 2  
demet maydanoz  
ve 2 kg bezelye top-  
lam kaç lira olur?

Önce yukarıda verilen işlemler yapıлып sonuçları bulunacaktır. Balık resmindeki bölmeler ise bu sonuçların olduğu kutuların rengine boyanacaktır.

**Buna göre balık boyandıktan sonra nasıl görünür?**


- A)  B)  C) 

1

Veri Toplama, Grafik Oluşturma





Tarih: \_\_\_/\_\_\_/\_\_\_

Puan:







- Organik tarımla uğraşan bir çiftçi ürünlerine çok iyi bakar. Bu çiftçinin her üründen ne kadar yetiştirdiğini hesaplayınız. Bulduğunuz bilgilerle verilen tabloları tamamlayınız.

Çetele Tablosu

Bitki Türü	Sayısı
	
	
	
	

Sıklık Tablosu

Bitki Türü	Sayısı
	
	
	
	5



## TEST 4




2


Adı: \_\_\_\_\_

Tarih: \_\_\_/\_\_\_/\_\_\_

Puan: \_\_\_\_\_



Taşıt Türü	Taşıt Sayısı
Uçak	
Araba	
Motosiklet	

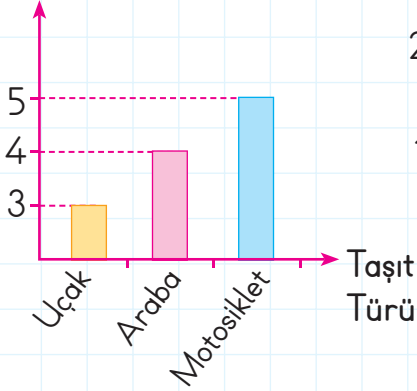


Her şekil 5 nesneyi göstermektedir.

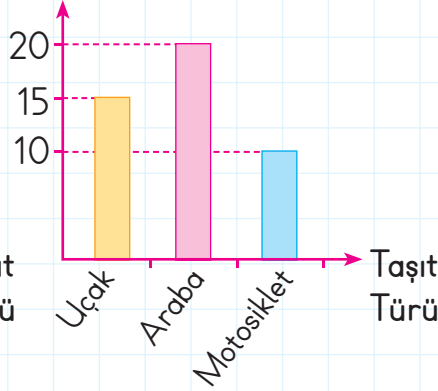
Yukarıda verilen, bir havaalanında bulunan taşıt türlerinin ve sayılarının olduğu tabloyu inceleyiniz.

Buna göre aşağıdakilerden hangisi bu tablonun grafiğidir?

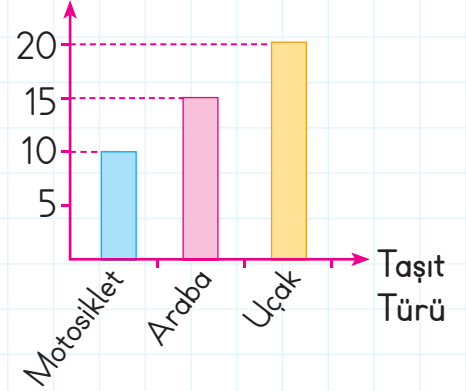
A) Taşıt Sayısı



B) Taşıt Sayısı



C) Taşıt Sayısı





1


## Uzunluk Ölçme

Tarih: \_\_\_/\_\_\_/\_\_\_

Puan: \_\_\_\_\_



- Aşağıda verilen cisimler en uzundan en kısaya doğru sıralanacaktır. Cisimlerin başlarındaki harfleri en uzundan başlayarak şifre kutusuna yazıp şifreyi bulunuz.



Şifre Ne?

--	--	--	--	--

En uzun → En kısa

## TEST 5

2

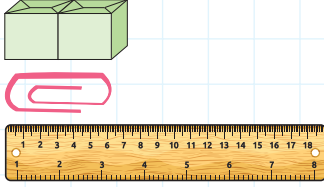
Adı: \_\_\_\_\_

Tarih: \_\_\_/\_\_\_/\_\_\_

Puan: \_\_\_\_\_



1.



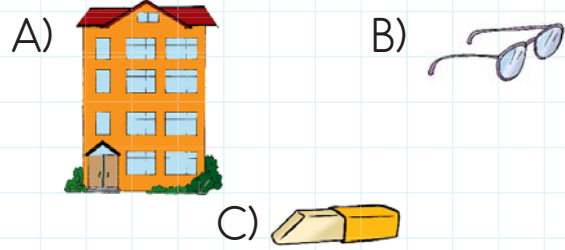
Bir ataş iki kutu uzunluğundadır. Cetvel ise üç ataş uzunluğundadır. Buna göre cetvelin uzunluğu kaç kutu uzunluğundadır?

- A) 2      B) 3      C) 6


2. Hangi seçenekte verilenlerden tümü standart olmayan uzunluk ölçüleridir?

- A) Karış - Parmak - Kilometre  
B) Parmak - Ayak - Kulaç  
C) Metre - Adım - Santimetre

3. Hangi seçenekteki varlık cetvelle ölçülemez?



4.



Yukarıda verilen tırtılın uzunluğu kaç santimetredir?

- A) 20 cm      B) 15 cm      C) 10 cm



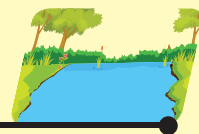
5.



Ahır



Göl



Yukarıda verilen at düz bir yolda ilerleyerek önce ahıra, sonra göle gidecektir. At ile gölün arası 62 adımdır. Ahır ile göl arasındaki mesafe ise 27 adımdır.

Buna göre at ahıra kaç adımda ulaşır?

- A) 89      B) 27      C) 35

1

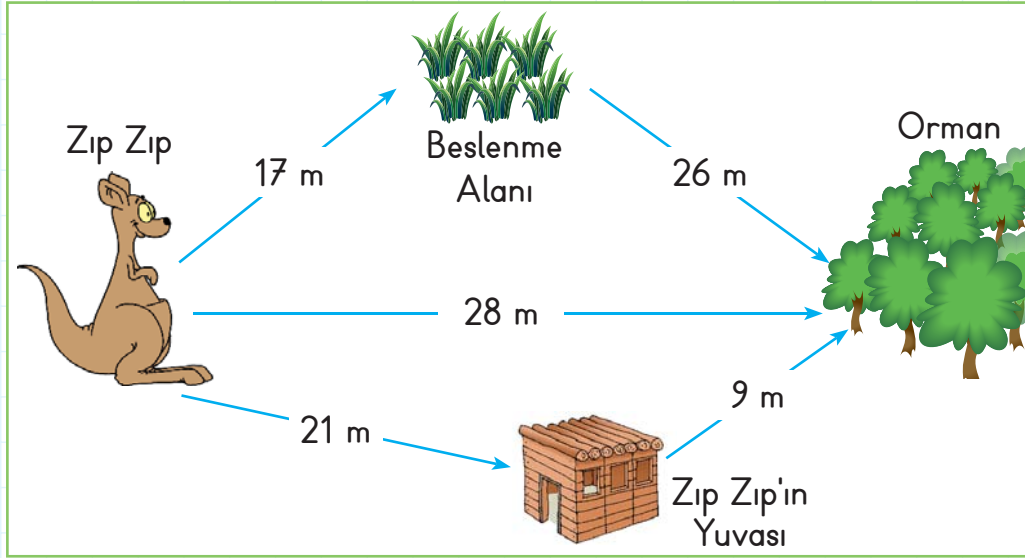
## Uzunluk Ölçme

Tarih: \_\_\_/\_\_\_/\_\_\_

Puan: 

- Zıp Zıp, Avustralya'da yaşayan neşeli bir kangurudur. Aşağıda Zıp Zıp'ın çeşitli yerlere olan mesafesi gösterilmiştir.

**Soruları yanıtlayınız. Harfleri doğru sonuçların olduğu yerlere yazarak şifreyi çözünüz.**



Ç

Zıp zıp önce beslenme alanına, sonra ormana giderse kaç metre yol almış olur.

L

Zıp Zıp bir yere uğramadan ormana giderse 40 metreden ne kadar az metre yol gitmiş olur?

U

Zıp Zıp önce yuvasına, oradan sonra ormana gitmiştir. Zıp Zıp kaç metre yol almıştır?

T

Ormanda oynamakta olan minik fare beslenme alanına gider. Sonra ormana geri döner. Minik fare kaç metre yol gitmiştir?

O

Zıp Zıp'ın beslenme alanına olan uzaklığı, yuvasına olan uzaklığından kaç metre azdır?

 Şifre Ne?

KANGURULAR

4	52	43	30	12

DUR.

## TEST 6

2

Adı: \_\_\_\_\_

Tarih: \_\_\_/\_\_\_/\_\_\_

Puan: \_\_\_\_\_



1. Aşağıdaki sonuçların en uzun hangisidir?

A) 1 metre + 1 metre

B) 70 cm + 29 cm

C) 90 cm + 1 cm

2.



Yukarıda verilen arabanın uzunluğu hangisi olabilir?

A) 40 m B) 4 m C) 4 cm

3. Kedimin boyu 45 cm'dir. Kardeşimin boyu kedinin iki katı kadardır. Buna göre kardeşim 1 metreden ne kadar kısadır?



A) 90 cm B) 10 m C) 10 cm

4.



Yukarıda verilen kalem 18 cm'dir. Bu kalemin yarısı kullanılmıştır. Kullanılan kalemin ucuna 5 cm boyunda bir silgi eklenirse, kalem ve silginin toplam uzunluğu ne olur?

A) 23 cm B) 14 cm C) 18 cm

MUTLU YAYINCILIK



5.


1.



2.



3.



Bir hayvanat bahçesindeki maymunun yaşam alanında bulunan cisimlerden bazıları yukarıda verilmiştir.

**Bu cisimlerin en kısıdan en uzuna sıralamasını hangi maymun doğru olarak göstermiştir?**

A)



B)



C)



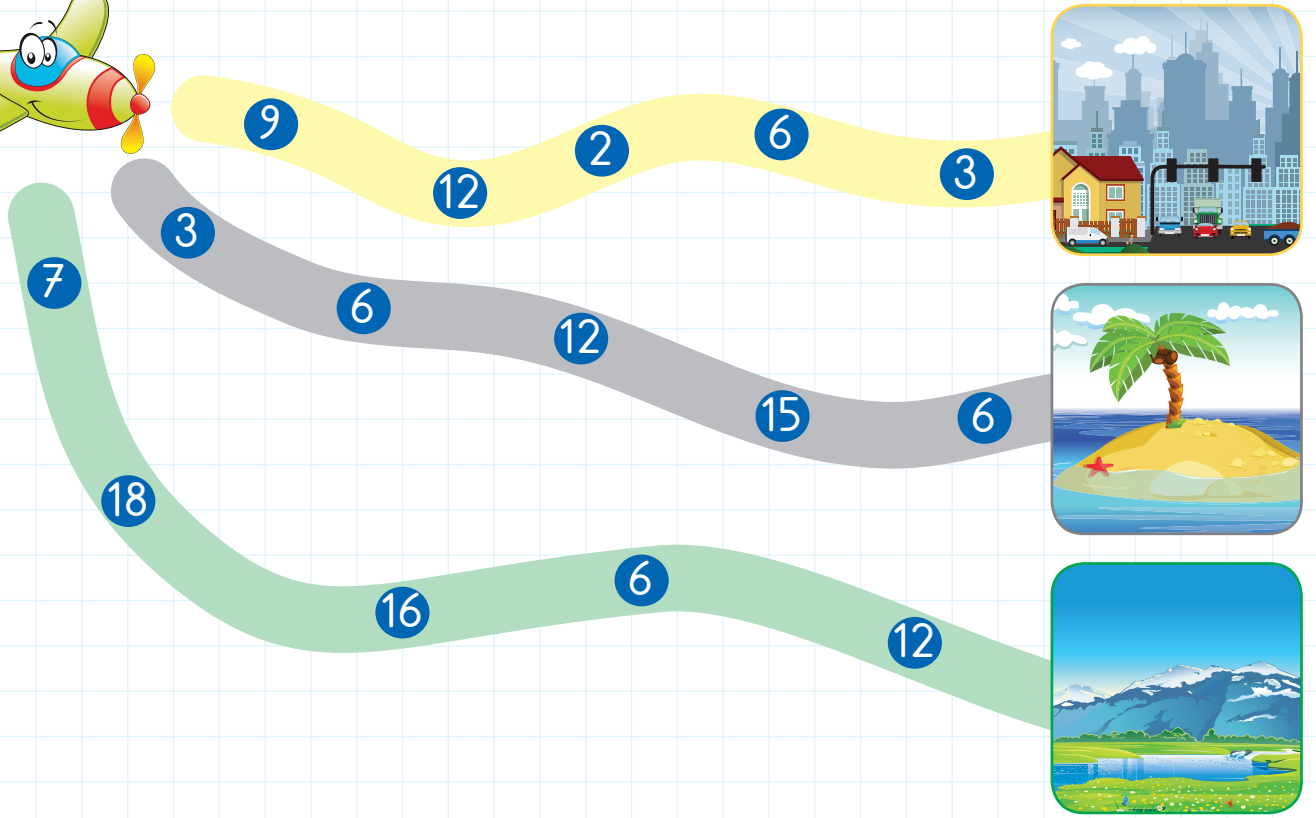

1

## Ağırlık Ölçme

Tarih: \_\_\_/\_\_\_/\_\_\_

Puan: 

- Verilen soruları sırayla cevaplayıp doğru sonuçları takip ediniz. Sevimli Uçak'ın nereye ulaştığını bulup yuvarlak içine alınız.



- 3 tane kavun 3 kg ise 7 kavun kaç kilogramdır?
- Bir köpek, 6 maymun ağırlığındadır. Bir maymun 3 kilogram ise, at kaç kilogramdır?
- Her hafta 2 kilogram pirinç yiyen bir aile, 8 haftada toplam kaç kg pirinç yer?
- 5 günde 15 kg çöp toplayan bir çöpçü, 2 günde ortalama kaç kg çöp toplamıştır?
- 1 karpuz 6 kg, 3 elma 1 kg, 1 kavun 1 kg'dır. Terazinin bir tarafına 1 tane karpuz, öbür tarafına 2 tane kavun konulmuştur. Terazinin dengeye gelmesi için kavunların yanına kaç tane elma konulmalıdır?

## TEST 7

2

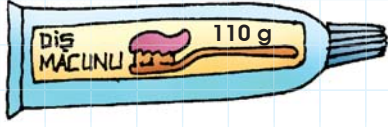
Adı: \_\_\_\_\_

Tarih: \_\_\_/\_\_\_/\_\_\_

Puan: \_\_\_\_\_



1.



Yukarıdaki diş macunundan 10 tanesinin toplam ağırlığı ne kadar olur?

- A) 1 kg      B) 1 kg 100 g  
C) 110 g

3.

Cömert ailesi yarım kilogram nohut bir haftada tüketmektedir. Bu aile 1 yılda toplam kaç kg nohut tüketmiş olur?

- A) 100      B) 26      C) 52

3.



Pelin

Pazardan 3 kg kiraz, 2 kg erik aldım.

Pelin'in aldığı kirazın kilosu 8 TL, eriğin kilosu 6 TL'dir. Buna göre Pelin kiraz ve erik için ne kadar para ödemiştir?

- A) 36 TL      B) 14 TL      C) 40 TL

MUTLU® YAYINCILIK

1. Kilogramı 2 TL olan şekerden 9 kg alan biri ne kadar para ödemelidir?

- A) 2 TL      B) 9 TL      C) 18 TL



5.

Cüzdanımdaki para:



Kerem

Marketten aldıklarım:

- Yarım kg çilek
- 6 kg elma

Kerem yukarıda gösterilen para ile marketten söylediği ürünleri satın alıyor ve hiç para üstü almıyor. Elmanın kilogramı 5 lira ise yarım kilogram çilek kaç liradır?

- A) 4 TL      B) 5 TL 50 Kr.      C) 9 TL

1

Öğrendiklerimizi Hatırlayalım

Tarih: \_\_\_/\_\_\_/\_\_\_

Puan:



- Soruların başındaki harfleri doğru cevabın bulunduğu şifre bölmesine yerleştiriniz. Şifreyi bulunuz.

E

"57 + 9" işleminin tahmini sonucu kaçtır?

R

8 çeyrek, kaç bütün eder?



İ

4 tane karenin toplam kaç köşesi vardır?



Y

36 öğrencinin 1 düzinesi erkektir. Kaç tane kız öğrenci vardır?

T

Kedim 9 kg, köpeğim ise kedimin iki katı kadar ağırlıktadır. Kedimin ve köpeğimin ağırlıkları toplamı kaç kilogramdır?



K

Bir kitap 6 ataş uzunluğundadır. 1 silgi 2 ataş uzunluğunda ise bir kitap kaç silgi uzunluğunda olur?

Ü

16'nın yarısının, 37 fazlasının en yakın onluğu kaçtır?



Şifre Ne?

27	50	2	3	16	24	70



TEST 8

2

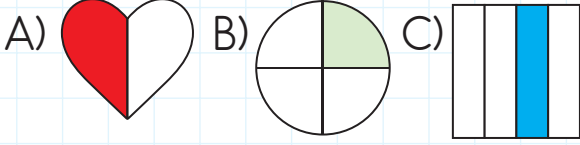
Adı: \_\_\_\_\_

Tarih: \_\_\_/\_\_\_/\_\_\_


Puan: \_\_\_\_\_



1. Hangi şeklin çeyreği boyalı **değildir**?



2. Yanda verilen görsel ile ilgili hangisi söylenebilir?



- A) Hiç köşesi olmayan 2 şekil vardır.  
 B) Dört kenarı olan şekil sayısı 1'dir.  
 C) Şekildeki üçgen ve daire sayısı eşittir.

3. Her tabakta aynı sayıda kurabiye olduğu bir yemek masasında toplam 18 kurabiye vardır. Her tabakta 2 kurabiye varsa, masada kaç tabak vardır?



- A) 2      B) 9      C) 11

4. Elif 3 yaşındadır. Ablasının yaşı Elif'in yaşının 2 katından 3 fazladır. Elif'in ablası kaç yaşındadır?

- A) 9      B) 10      C) 13



5.



Bizden 16 tane var.






Bizim sayımız 22.



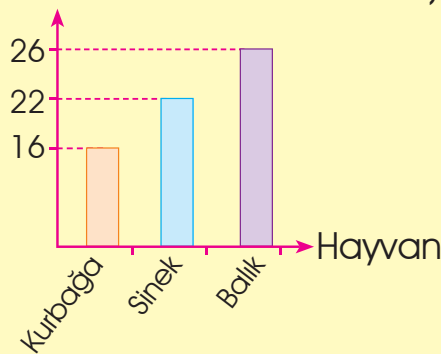
Bizim sayımız kurbağalardan 1 deste fazla.

Bir gölde bulunan hayvanlar ve sayıları yukarıda verilmiştir. Hangisi bu bilgilere uygun bir tablodur?




A) Çetele Tablosu

B) Sayılar



C) Sıklık Tablosu

	16
	22
	16



- Metni okuyunuz. Soruları yanıtlayınız.

## AĞAÇLARIN UYKUSU

Bir gün meşe, gürgen ve kayın doğa anneye dediler ki:

— Bütün yaz çalıştık, çabaladık, yorulduk. Biraz dinlenmeliyiz.

Doğa anne:

— Öyleyse artık uykuya yatınız, dedi.

Bunun üzerine yapraklar:

— Peki biz ne olacağız, diye bağırdılar.

Doğa anne:

— Siz de serbestsiniz, dedi. İster uyuyun, ister oynayın.

Yapraklar, buna çok sevindiler.

Ertesi gün doğa anne, ağaçlara seslendi:

— Uykuya yatmadan önce, dünyayı güzel renklerle süsleyelim.

Ağaçlar, doğa annenin sözünü dinlediler. Yapraklarını kırmızı, turuncu, sarı renklere dönüştürdüler.



Şadiye AKAY

Doğa Öyküleri (Kısaltılmıştır.)

1. Doğa anneye seslenenler kimlerdir?

\_\_\_\_\_

2. Ağaçlar hangi mevsimde çalışıp yorulmuşlar?

\_\_\_\_\_

3. Doğa anne yapraklara ne demiş?

\_\_\_\_\_

4. Doğa anne "Uykuya yatmadan önce, dünyayı güzel renklerle süsleyelim." dedikten sonra ne olmuş?

\_\_\_\_\_

TEST 1 Hece, Sözcük, Cümle, Sözcüklerin Sözlük Sırası

2

Adı: \_\_\_\_\_

Tarih: \_\_\_/\_\_\_/\_\_\_

Puan: \_\_\_\_\_



1. Aşağıdakilerden hangisi bir cümledir?

- A) Kümesin bütün deliklerini
- B) Ertesi gece
- C) Tilki kümese girememiş

2. Hangi seçenekte verilen sözcüklerle anlamlı bir cümle oluşturulabilir?

- A) arkadaşlarıma sürpriz bir güzel
- B) dedeme köydeki mektup yazmaya
- C) birdenbire çocuk başladı ağlamaya

3. ● Yarın hava yağmurlu olacakmış.

■ Teyzem gözlüğünü bizde unutmuş.

★ Eda ile Can aynı okula gidiyorlar.

Yukarıdaki cümlelerden hangi sembolle gösterilen en fazla sözcükten oluşmuştur?

- A) ●
- B) ■
- C) ★

● Aşağıdaki sözcükleri hecelerine ayırınız. Karşlarına yazınız.

- yumurta : \_\_\_\_\_
- zürafa : \_\_\_\_\_
- öğrenci : \_\_\_\_\_
- televizyon: \_\_\_\_\_

● Aşağıda verilen sözcükleri, sözlük sırasına göre sıralayınız. (En önce gelene 1, en son gelene 4 yazınız.)

- masa
- kelebek
- lale
- anahtar

- çiçek
- çimen
- çamur
- çelik

- veli
- yönetmen
- helyum
- görüntü



- Şiiri okuyunuz. Soruları yanıtlayınız.

## OYUN

Biz oyunsuz olamayız,  
Eve bağlı kalamayız,  
İçimiz kıpır kıpır,  
Yerimizde duramayız.

Biliriz her birimiz,  
Önemlidir derslerimiz,  
Ayarlarız zamanını,  
Geri kalmaz ödevimiz.

Oynar oynar, koşarız,  
Mutlu olur, coşarız,  
Çalışmak gerekince,  
Zamanında yaparız.

Şevket TERZİ  
Tomurcuk



1. Şiirde konuşan kimdir?

\_\_\_\_\_

2. Çocukların içlerinin kıpır kıpır olduğu hangi sözle anlatılmıştır?

\_\_\_\_\_

3. Ödevlerinden geri kalmak istemeyen öğrenciler ne yaparmış?

\_\_\_\_\_

4. Çocuklar neyin önemli olduğunu bilirler?

\_\_\_\_\_

TEST 2 Sözcüklerin Sözlük Sırası, Sözcük, Hece, Yazım Kuralları

2

Adı: \_\_\_\_\_

Tarih: \_\_\_/\_\_\_/\_\_\_

Puan: \_\_\_\_\_



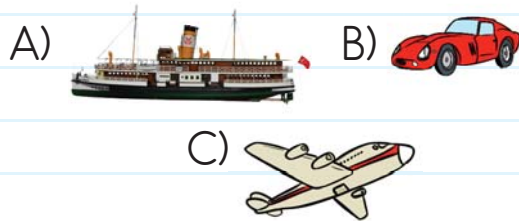
1. Hala Teyze Yenge Arkadaş

Yukarıda verilen sözcükler alfabe sırasına göre dizilirse baştan ikinci sözcük ne olur?

A) Arkadaş B) Hala C) Yenge

2. Kamyon, otobüs ve \_\_\_\_\_ gibi taşıtlar kara yolunda hareket eder.

Yukarıdaki cümlede noktalı yere aşağıdaki görsellerden hangisinin adı yazılabilir?



3. I. Herkez oyun için bahçeye çıktı.  
II. Çarşamba günü yağmur yağdı.  
III. Matematik dersini çok severim.

Hangi sayı ile gösterilen cümlede yanlış yazılan bir sözcük vardır?

A) I B) II C) III

- Aşağıdaki yanlış yazılan sözcüklerin karşılıklarına doğrularını yazınız.


- perşembe : \_\_\_\_\_
- defder : \_\_\_\_\_
- yımırta : \_\_\_\_\_
- yalnız : \_\_\_\_\_
- yovurt : \_\_\_\_\_

- Heceleri karışık olarak verilen sözcükleri, sözcükleri anlatan resimlerle eşleştiriniz.

● can pat lı



● rım sa sak



● fon le te



● ver gü cin





- Metni okuyunuz. Soruları yanıtlayınız.

## ÇİÇEKLER DALINDA GÜZELDİR

Ben çiçekleri çok severim. Çiçekler renk renktir. Kırmızı, mavi, sarı...

Evimizin bahçesinde çok çiçek var. Akşamları, babamla bahçeye çıkarız. Çiçeklerimizi sularız. Ben de küçük kovamla su taşıyorum.

Babam bana dedi ki:

— Umut, çiçek dalında güzeldir. Çiçek dalında güzel kokar. Arılar, kelebekler de çiçekleri dalında severler. Her sabah bahçeye çıkarım. Çiçeklerime bakar, sonra okuluma giderim.



Pınar ENGİN  
Çocuk Öyküleri

1. Çocuğun ismi nedir?

---

2. Çocuk ve babası bahçede ne yaparmış?

---

3. Babası Umut'a ne demiştir?

---

4. Umut okula gitmeden önce ne yaparmış?

---

## TEST 3 Sözcük Bilgisi, Zıt Anlam, Eş Sesli Kelimeler

2

Adı: \_\_\_\_\_

Tarih: \_\_\_/\_\_\_/\_\_\_

Puan: \_\_\_\_\_



1. ■ Can ile Cem de bize geleceklermiş.  
▲ Peynir, yoğurt gibi yiyecekler süttten yapılır.  
● Fazla bağırma ki bebek uyanmasın.

Hangi sembol ile gösterilen cümlede tek başına anlamı olmayan birden çok sözcük vardır?

- A) ■      B) ▲      C) ●

2. Pazardan patates, soğan, portakal ve ıspanak aldım.

Yukarıdaki cümledeki altı çizili sözcükler "sebzeler" olarak grublacaktır. Hangi sözcük bu grubun dışında kalır?

- A) portakal      B) soğan  
C) ıspanak

3. Hangi cümlede ünlü ile başlayan sözcük sayısı daha fazladır?

- A) Renkli kâğıtlar satın aldık.  
B) Balonları şişirdik ve iplere astık.  
C) Pencerelere süsler yapıştırdık.

- Sözcükleri zıt anlamlıları ile eşleştiriniz.

uzun

soğuk

uslu

cevap

yaşlı

kısa

sıcak

büyük

soru

beyaz

küçük

yaramaz

siyah

genç

- Aşağıda verilen kutulardan eş sesli kelimelerin olduğu kutuları renklendiriniz.

sat

kız

sal

çay

buz

yat

yel


al

tır





● Metni okuyunuz. Soruları yanıtlayınız.



## GÜZEL BİR DUYURU

Ablama sordum:

— Abla, atık kâğıt ne demek?

Ablam:

— Kullanılmış, işi bitmiş kâğıtlara atık kâğıt diyoruz. Neden sordun ki?

— Bak, gazetede ne yazıyor? Okuyayım: "Atık kâğıtları toplayın. Bu yolla binlerce ağacın kesilmesini önleyin."

Ablam:

— Bak Zeynep, dedi. Biliyorsun kâğıt, ormanlardan kesilen ağaçlardan yapılır.

— İyi de abla, kullanılmış kâğıtlar ne işe yarayacak, dedim.

Ablam şöyle açıkladı:

— Bu kâğıtlar fabrikaya gönderilir. Onlar yeniden kâğıt hâline getirilir. Böylece daha az ağaç kesilir.

Nesrin SOYÖZ  
Cıvıltı

1. Metne göre, atık kâğıt nedir?

\_\_\_\_\_

2. Konuşma kimlerin arasında geçiyor?

\_\_\_\_\_

3. Gazetede ne yazıyormuş?

\_\_\_\_\_

4. Atık kâğıtların yeniden kâğıt hâline getirilmesi niçin önemlidir?

\_\_\_\_\_

**TEST 4** Tekil ve Çoğul Adlar, Hece, Sözcük, Karşıt Anlam, Olayların Oluş Sırası

2

Adı: \_\_\_\_\_

Tarih: \_\_\_/\_\_\_/\_\_\_

Puan: \_\_\_\_\_



1. bah sa çe

Yukarıda verilen hecelerle aşağıdaki kelimelerden hangisi **oluşturulamaz**?

- A) sabah B) bahçe C) sakız

2. I. İyi ki senin yanına gelmişim.  
II. Onu ilk kez böyle gördüm.  
III. Sen de bizimle oynasana!

Yukarıdaki cümlelerin hangisinde altı çizili kelime hem hece hem sözcüktür?

- A) I B) II C) III

3. uzun



Aşağıdaki cümlelerden hangisinde yukarıdaki sözcüğün karşıt anlamlısı vardır?

- A) Geniş sokakta yürümek kolaydır.  
 B) Bahçemizde kısa ve bodur ağaçlar var.  
 C) Uzak şehirde oturan amcam geldi.

- Aşağıda verilen cümlelerden en önce gerçekleşene 1, en son gerçekleşene 5 yazınız. Olayları oluş sırasına göre sıralayınız.

- 1 Parka gitmeden ödevlerimi yaptım.
- 2 Parkta arkadaşlarımla buluştum.
- 3 Okuldan eve geldim.
- 4 Dişlerimi fırçalayıp yatağa yattım.
- 5 Eve gelir gelmez üzerimi değiştirdim.

- Tekil kelimeleri çoğula, çoğul kelimeleri tekile çeviriniz.

TEKİL	ÇOĞUL
	okullar
makas	
kiler	
	ormanlar
	giysiler
serçe	
ayak	



- Metni okuyunuz. Soruları yanıtlayınız.

## AĞAÇ SEVGİSİ



Bahçıvan Mevlüt Baysal anlatıyor:

Çankaya Köşkü'nün bahçesini düzenliyordum. Bir gün Atatürk, emir subayı ve ben bahçede dolaşıyorduk. Çok yaşlı ve geniş bir ağaç, Atatürk'ün geçeceği yolu kapatıyordu. Derhal atıldım:

— Emrederseniz hemen keselim paşam, dedim.

Atatürk, bir an yüzüme baktı, sonra:

— Sen hayatında böyle bir ağaç yetiştirdin mi ki keseceksin, dedi.

Niyazi Ahmet BANOĞLU  
Nükte ve Fıkralarla Atatürk

1. Olayı anlatan kimdir?

\_\_\_\_\_

2. Bahçıvan, ağacı neden kesmek istiyor?

\_\_\_\_\_

3. Atatürk bahçıvanın bu düşüncesini nasıl karşılıyor?

\_\_\_\_\_

4. Olay nerede geçmektedir?

\_\_\_\_\_

**TEST 5** Eş Anımlı Kelimeler, Eş Sesli Kelimeler, Harf, Sözcük, Noktalama İşaretleri

2

Adı: \_\_\_\_\_

Tarih: \_\_\_/\_\_\_/\_\_\_

Puan: \_\_\_\_\_



1. **Onur:** Dedem bana askerlik hatıralarını anlattı.

Onur'un cümlesindeki altı çizili sözcüğün eş anlamlısı hangi cümlede vardır?

- A) Tatil anılarımı sınıfta anlattım.
- B) Yoksullara yardım etmeliyiz.
- C) Öğrenciler tekil adları öğrendiler.

2. Aşağıdaki cümlelerde renkli gösterilen sözcüklerden hangisi eş seslidir?

- A) Tarlayı sürmek ve **ekmek** zordur.
- B) **Buğday** öğütülür ve un elde edilir.
- C) **Fırından** taze pide aldım.

3. **Kaz**

Yukarıda verilen sözcük hangi cümlede bir hayvan adı olarak kullanılmıştır?

- A) Bunları dikmek için toprağı iyice kaz.
- B) Kümesten kaçan kaz bir süre sonra bulundu.
- C) Sen kaz, ben gerekli malzemeleri getiririm.

● Aşağıda sadece ünsüz harfleri verilen sözcükleri, sesli harflerini yazarak tamamlayınız.

H T  P  T

C  V  Z

C  M H  R  Y  T

P  T L  C  N

S  K S  K

● Cümlelerin sonuna doğru noktalama işaretlerini koyunuz.

- ❖ Söyledim ama dinlemedi( )
- ❖ Siz de gelecek misiniz( )
- ❖ Ne yemek yer ne oyun oynar( )
- ❖ Olamaz, yangın var( )
- ❖ Nereye kadar gideceğiz( )
- ❖ Yaz mevsimini çok severim( )



- Metni okuyunuz. Soruları yanıtlayınız.

## DONDURMACI

Bizim çocukluğumuzda dondurma, arabalarda satılırdı. Bizim sokağa en çok Ahmet amcanın arabası gelirdi. Ama ne araba! Bir görmeliydiniz. Kırmızı beyaz boyanmış, gelin gibi süslü, pırıl pırıldı. Üzerinde kenarları saçaklı, kocaman bir güneşliği vardı.

Ahmet amca orta yaşlı, babacan, beyaz önlüklü bir adamdı. Başında, her zaman dondurması kadar beyaz bir başlığı vardı. Sesi birkaç sokak öteden duyulurdu. O daha sokağa girmeden, bütün çocuklar sıraya girerdik. Dondurmasına gelince; hani "Tadı damağımda kaldı" derler ya, tek kelimeyle harikaydı. Kasabada onun dondurması üzerine dondurma yoktu.



Anılardan Kalanlar

1. Dondurma arabası nasıl bir arabadır?

---

2. Ahmet amca nasıl bir adamdır?

---

3. Dondurma arabası sokağa girmeden ne olurmuş?

---

4. Metinde geçen "Tadı damağımda kaldı" sözü sizce ne anlama gelmektedir?

---

**TEST 6** Özel Ad, Tür Adı, Tekil ve Çoğul Ekleri, Yazım Kuralları

2

Adı: \_\_\_\_\_




Tarih: \_\_\_/\_\_\_/\_\_\_

Puan: \_\_\_\_\_



1. Hangi cümlede birden fazla özel ad vardır?

- A) Atatürk, yurt gezisine çıkmıştı.  
B) Atatürk, Tarsus'a gitmişti.  
C) Cumhuriyet ilan edildi.

2.  Atın boynuna yuları taktım.  
 Annem kilerden patates aldı.  
 Ablam soğanları doğradı.

Yukarıdaki cümlelerden hangi sembol ile gösterilen cümlede çoğul eki almış bir sözcük vardır?

- A)  B)  C) 






3. 

Elazığ	Martı	Kütüphane
Almanya	Yüzme	Ressam

Yukarıda verilen kelimelerden kaç tanesi tür adıdır?

- A) 3 B) 4 C) 5

● "Kitap" ve "kitaplar" sözcükleri arasında bir ilişki vardır. Aşağıdaki resimlerle gösterilen sözcükleri bu ilişkiye göre eşleştiriniz.



● Verilen cümlelerden anlamlı ve kurallı olanları işaretleyiniz.

- Geldin mi sen de?  
 Uslu, akıllı bir çocuktur.  
 Gideceğim yarın pazara.  
 Annem ve babamı çok severim.  
 Derslerime düzenli çalışırım.






- Metni okuyunuz. Soruları yanıtlayınız.

## TOMBIŞ İLE MİNNOŞ

Pırlıl pırlıl bir gündü. Tombiş ile Minnoş okuldan evlerine dönüyorlardı. İki kardeş, kırmızı kiremitli, şirin evlerini çok seviyorlardı. Babaları o evi üç yıl önce almıştı. O zaman ev, çok eski ve haraptı. Babaları:

— Bakın çocuklar! Ben bu evi satın aldım. Onu onarmak ve güzelleştirmek hepimizin görevi, dedi.

Bunun üzerine tüm aile işe koyuldu. Babaları çatıyı onarmaya başladı. Anneleri pencereleri sildi. Büyükbaba bahçedeki yabancı otları temizledi, çiti onardı. Büyükanne saksılara çiçekler dikti. Badana yapıldı. Baca temizlendi.



Tombiş ile Minnoş ise ailedeki herkese yardım ediyorlardı. Çok mutluydular. Evlerini onarıırken, başlarına gelen her olaya kahkahalarla gülüyorlardı. Hele Tombiş'in su kovaşına düşmesine çok güldüler.

Sonunda yıkık yer, köyün en güzel evi oldu. Kararlı olmanın, el birliğiyle çalışmanın ödülünü almış oldular.

K. STOCKHEIM (K. Stokhaym)

Yeni Evimiz (Uyarlanmıştır.)

Çeviren: Çetin TÜZÜNER

1. Hikâye nasıl bir günde geçmektedir?

---

2. Tombiş ile Minnoş'un evi nasıl bir evdir?

---

3. Tüm aile hangi olayın üzerine çok gülmüştür?

---

4. Evin köydeki en güzel ev olması hangi davranış sayesinde olmuştur?

---



**TEST 7** Cümle, Soru Cümlesi, Varlıkların Özelliklerini Belirten Cümleler,  
Özel Adlar, 5N 1K

2

Adı: \_\_\_\_\_

Tarih: \_\_\_/\_\_\_/\_\_\_

Puan: \_\_\_\_\_



1.

**Ne zaman?**

Aşağıdaki cümlelerden hangisi yukarıda verilen sorunun yanıtı olabilir?

- A) İşten yürüyerek gelmiş.  
B) Kışın kazak giymeyi severim.  
C) Patates kızartması yemeyi severim.

2.

**Yeşil, sulu elma yedim.**

Verilen cümlede geçen hangi sözcük bir varlığın özelliğini belirtmez?

- A) yeşil B) sulu C) elma

3.

**I. Yarın doktora gideceğiz.**
**II. Az sonra yanına geleceğim.**
**III. Geçen ay köye gitmiştik.**

Yukarıdaki cümlelerden hangisinde eylem yapılmış ve bitmiştir?

- A) I B) II C) III

● Aşağıda verilen cevaplara uygun sorular yazınız.

**Soru:** \_\_\_\_\_

**Cevap:** Bizi ziyarete gelen teyzemdi.

**Soru:** \_\_\_\_\_

**Cevap:** Partiye yarın gideceğim.

**Soru:** \_\_\_\_\_

**Cevap:** Pazardan limon ve salatalık aldım.

● Aşağıda verilenleri ilgili özel adları ile eşleştiriniz.

Şehir Adları ●

Türk Dil Kurumu ●

Ülke Adları ●

Akdeniz ●

Deniz Adları ●

Elazığ ●

Hayvan Adları ●

Fransa ●

Kurum Adları ●


Pamuk ●



- Metni okuyunuz. Soruları yanıtlayınız.

## İŞE YARAMAYAN GÜZELLİK

Çok susayan bir geyik suya inmiş. Kana kana su içmiş. Tam gidecekmış, sudaki yansımasını görünce durmuş. "Ay, o ne güzel boynuzlar, çatal çatal!" Geyikçik boynuzlarının güzelliğine bakakalmış. "Varsa yoksa boynuzlarım." demiş.



Ama gözleri kalem bacaklarına takılınca sevinci bitivermiş. Nerede ay çatalı boynuzlar, nerede kalem gibi çırpı bacaklar... Üzölmüş.

O, öyle dururken köşelerden bir yerden bir aslan "harr" diye fırlamış üzerine. Geyikçik tez toparlanmış, ok gibi ileri atılmış. Ağır vücutlu aslan bir türlü geyiğe yetişememiş.

Geyik göz açıp kapayıncaya kadar suyun başından ormana ulaşivermiş. Korkuyla kaçarken ay çatalı boynuzları, ağaç dallarına takılmış. Yolunu engellemiş.

Geyikçik:

– Aah ah, demiş. Bir de kalem gibi diye bacaklarımı beğenmiyordum. Boynuzlarım gibi var mı diyordum. Beğenmediğimden iyilik gördüm de övdüğüm bana edeceğini etti işte.

Tarık Dursun K.

Ezop Masalları (Uyarlanmıştır.)

1. Geyik yansımasını nerede görmüş?  
\_\_\_\_\_
2. Geyiğin sevinci neyi görünce bitmiş?  
\_\_\_\_\_
3. Aslanın geyiğe yetişememesinin sebebi nedir?  
\_\_\_\_\_
4. Geyiğin aslandan kaçarken aldığı ders nedir?  
\_\_\_\_\_

TEST 8 Yazım Kuralları, Noktalama İşaretleri

2

Adı: \_\_\_\_\_

Tarih: \_\_\_/\_\_\_/\_\_\_

Puan: \_\_\_\_\_



1. Yaşasın, sınavı kazandım

Yukarıdaki cümlelerin sonuna hangi noktalama işareti konulmalıdır?

- A) B) C)

2. Aşağıdaki cümlelerin hangisinde virgül yanlış yerde kullanılmıştır?

- A) Hakan'ın boyu benden, uzundur.  
B) Kıvrıkcık, kahverengi tüyleri var.  
C) Eda, Oya ve Gül gelmeyecekmiş.

3.  Zil çaldımı?


Ankaradan ablamlar geldi.

İstanbul'dan teyzem geldi.

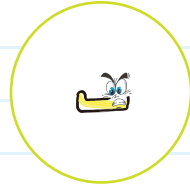
Yukarıda sembollerle cümleler gösterilmiştir. Bu cümlelerden hangisinde yanlış yazılmış bir sözcük yoktur?

- A) B) C)

● Aşağıdaki noktalama işaretlerini, tanımları ile eşleştiriniz.




Özel adlara gelen ekleri ayırır.



Konuşmalardan önce kullanılır.




Cümleleri bitirmek için konur.



Şaşkınlık, heyecan, üzüntü gibi duyguların olduğu cümlelerin sonuna konur.



Satır sonuna sığmayan sözcükleri ayırır.



Soru cümlelerinin sonuna konur.

1

## Ülkemizde Hayat

Ülkemizin Yeri, Dünya Üzerindeki Yerimiz

## HAYAT BİLGİSİ

Tarih: \_\_\_/\_\_\_/\_\_\_

Puan: \_\_\_\_\_



- Aşağıdaki Dünya haritasında yaşadığımız ülkeyi bulup, kırmızıya boyayınız.



- Aşağıdaki Türkiye haritasında yaşadığınız şehri bulup daire içine alınız. Türkiye'nin başkentini ♥ şekliyle çizerek gösteriniz.



TEST 1

2

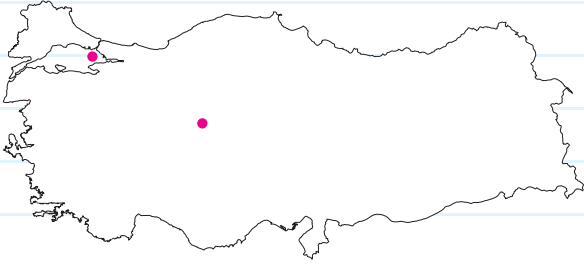
Adı: \_\_\_\_\_

Tarih: \_\_\_/\_\_\_/\_\_\_

Puan: \_\_\_\_\_



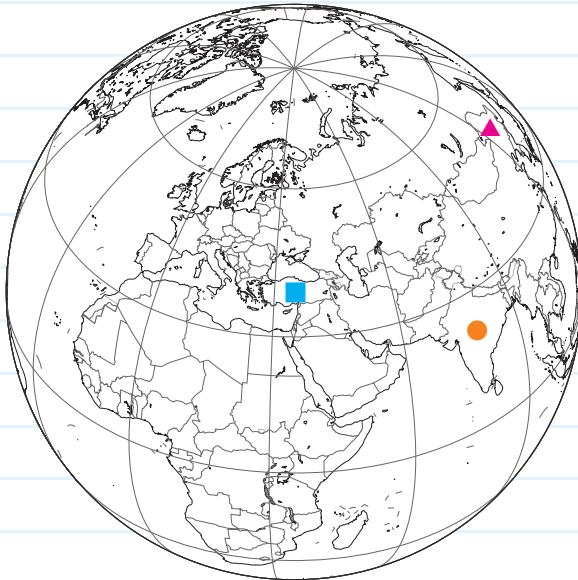
1.



Yukarıdaki Türkiye haritasında hangi ilimizin yeri nokta ile gösterilmemiştir?

- A) İstanbul B) Antalya  
C) Ankara

2.



Yukarıdaki yerkürede ülkemiz hangi sembole gösterilmiştir?

- A) ▲ B) ■ C) ●

3.

Muş	Kosova	Ankara
Selanik	Van	Rize

Yukarıdaki tabloda ülkemizde bulunmayan şehirlere X işareti konulursa tablonun görüntüsü hangisi gibi olur?

- A) 

X		
	X	X

 B) 

	X	
X		

  
C) 

X	X	X

4.

Başkenti İstanbul'dur.
Ülkemizin üç tarafı denizlerle çevrilidir.
Ülkemizde 81 il vardır.

Tabloda verilen Türkiye ile ilgili bilgilerden doğru olanlara ★ işareti konulacaktır. Buna göre tablonun son hâli hangisi gibi olur?

- A) 

★
★

 B) 

★
★

 C) 

★
★

1

## Ülkemizde Hayat

Bayrağımız ve İstiklâl Marşı'mız, Millî Değerlerimiz

Tarih: \_\_\_/\_\_\_/\_\_\_

Puan: \_\_\_\_\_



- Aşağıdaki ifadelerden doğru olanlara D, yanlış olanlara Y yazınız.

- Millî marşımızın adı İstiklâl Marşı'dır.
- İstiklâl Marşı'mızı, Mustafa Kemal Atatürk yazmıştır.
- Millî bayramlarda okulumuza, evlerimize bayraklar asarız.
- Bayrağımızın üstünde Güneş ve Ay görseli vardır.
- Türk bayrağı bağımsızlığımızın sembolüdür.

- İstiklâl Marşı'nın eksik sözcüklerini aşağıdan bulunuz. Sözcüğün üzerindeki harfi cümle başındaki yuvarlaklara yazıp şifreyi çözünüz.

## İSTİKLÂL MARŞI

- Korkma, sönmez bu \_\_\_\_\_ yüzen al sancak;
- Sönmeden yurdumun üstünde tüten en son \_\_\_\_\_.
- O benim milletimin \_\_\_\_\_, parlayacak;
- O benimdir, o benim \_\_\_\_\_ ancak.

- Çatma, kurban olayım, çehreni ey \_\_\_\_\_ hilâl !
- Kahraman ırkıma bir gül! Ne bu şiddet, bu \_\_\_\_\_ ?
- Sana olmaz dökülen \_\_\_\_\_ sonra helâl..
- Hakkıdır, Hakk'a tapan, milletimin \_\_\_\_\_ !

Mehmet Âkif ERSOY

Ğ celal      Y yıldızdır      A ocak      A nazlı      B şafaklarda

R milletimindir      M istiklâl      I kanlarımız

Şifre Ne?

## TEST 2

2

Adı: \_\_\_\_\_

Tarih: \_\_\_/\_\_\_/\_\_\_

Puan: \_\_\_\_\_



1. Bütün bağımsız ülkelerin \_\_\_\_\_ ve \_\_\_\_\_ vardır.

Yukarıdaki cümlede boş bırakılan yerlere sırasıyla hangileri gelmelidir?

- A) bayrağı - ay yıldızı  
B) başkanı - kitabı  
C) bayrağı - millî marşı

2. • İstiklâl Marşı'mız kaç kıtadan oluşur?  
• İstiklâl Marşı'mızı kim bestelemiştir?

Yukarıdaki soruların cevapları sırasıyla hangi şıkta verilmiştir?

- A) Beş - Mustafa Kemal Atatürk  
B) On - Osman Zeki Üngör  
C) İki - Mehmet Akif Ersoy

3.

Korkma, sönmez bu \_\_\_\_\_ 1 \_\_\_\_\_ yüzen al sancak;  
Sönmeden \_\_\_\_\_ 2 \_\_\_\_\_, üstünde tüten en son ocak.  
O benim milletimin \_\_\_\_\_ 3 \_\_\_\_\_, parlayacak;  
O benimdir, o benim \_\_\_\_\_ 4 \_\_\_\_\_ ancak.

Yukarıdaki İstiklâl Marşı'nın 1. kıtasında eksik bırakılan yerlere sırasıyla hangi sözcükler gelmelidir?

- |               |           |            |               |
|---------------|-----------|------------|---------------|
| 1             | 2         | 3          | 4             |
| A) ocaklarda  | vatanımın | aydır      | ülkemin       |
| B) şafaklarda | ülkemin   | güneşidir  | vatanımın     |
| C) şafaklarda | yurdumun  | yıldızıdır | milletimindir |



1

## Ülkemizde Hayat

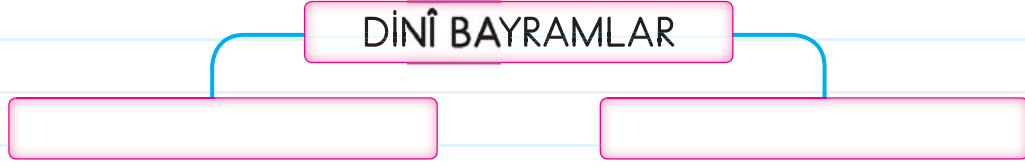
Dinî Gün ve Bayramlarımız, Kültürel Miras Öğelerimiz

Tarih: \_\_\_/\_\_\_/\_\_\_

Puan:



- Dinî bayramlarımızı aşağıdaki kutulara yazınız.



- Aşağıdaki ifadelerden dinî bayramlarda yapılan etkinliklere D, millî bayramlarda yapılan etkinliklere M yazınız.

- Evlerimizi bayraklarla süsleriz.
- Akrabalarımızı ve komşularımızı ziyaret ederiz.
- Okullarda halk oyunları oynar, şiirler okuruz.
- Büyüklerin ellerini öperiz.
- Gelen misafirlerimize ikramda bulunuruz.
- Sınıflarımızı süsleriz. Bayraklar asarız.

- Şemada verilen görsellerden kültürel mirasımıza ait olanların buldukları kutucukları işaretleyiniz.



TEST 3

2

Adı: \_\_\_\_\_

Tarih: \_\_\_/\_\_\_/\_\_\_

Puan: \_\_\_\_\_



1. Aşağıdakilerden hangisi dinî bayramlarda yapılan etkinliklerden biri **değildir**?

- A) Okullara ve sınıflara bayraklar asılır.
- B) Misafirlere ikram etmek için tatlılar hazırlanır.
- C) Büyükler ziyaret edilir.

3.



1



2



3



4

Yukarıdakilerden hangileri millî kültürümüzü yansıtan öğeler arasındadır?

- A) 1 ve 3 B) 1, 2 ve 3 C) 2 ve 4

2.

Cumhuriyet Bayramı	
Kurban Bayramı	
Zafer Bayramı	
Ramazan Bayramı	

Yukarıdaki tabloda dinî bayramlarımız işaretlenirse tablonun görünümü nasıl olur?


- A) 

✓
✓
- B) 

✓
✓
- C) 

✓
✓

4.



Yukarıdaki şekilden yemek kültürümüze ait olmayan bölme çıkarılırsa, hangi görüntü oluşur?

- A)
- B)
- C)

1

## Ülkemizde Hayat

Millî Gün ve Bayramlarımız, Üretim Faaliyetleri

Tarih: \_\_\_/\_\_\_/\_\_\_

Puan: \_\_\_\_\_



- Millî bayramları, kutlama nedenleriyle eşleştiriniz. Ortaya çıkan şifreyi yazınız.

30 Ağustos Zafer Bayramı

R

1

Atatürk, Kurtuluş Savaşı'nı başlatmak için Samsun'a gitmiştir.

29 Ekim Cumhuriyet Bayramı

T

2

TBMM'nin açıldığı ve Türk halkının egemenliğini ilân ettiği gündür.

23 Nisan Ulusal Egemenlik ve Çocuk Bayramı

U

3

Kurtuluş Savaşı'nı kazandığımız, düşmanları yurdumuzdan attığımız gündür.

19 Mayıs Atatürk'ü Anma Gençlik ve Spor Bayramı

Y

4

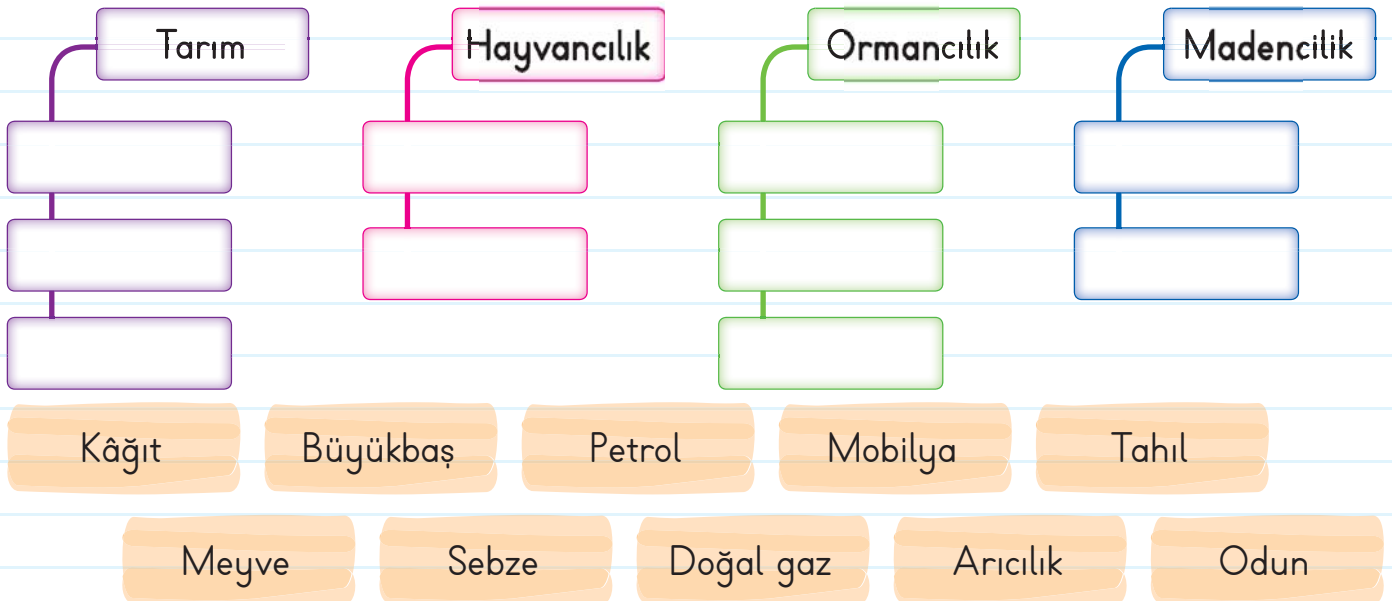
Ülkemizin yönetim şeklinin ilân edildiği gündür.

Şifre Ne?

1	2	3	4

- Üretim faaliyetleri şemasını, ilgili ürünler ve sözcüklerle tamamlayınız.

## ÜRETİM FAALİYETLERİ



TEST 4

2

Adı: \_\_\_\_\_

Tarih: \_\_\_/\_\_\_/\_\_\_

Puan: \_\_\_\_\_



1.	Atatürk Samsun'a 19 Mayıs günü gitti.
	Türkiye Büyük Millet Meclisi 30 Ağustos'ta açılmıştır.
	Cumhuriyet 29 Ekim'de ilan edildi.


Yukarıdaki tabloda doğru olan cümlelerin başına ✓, yanlış olan cümlelerin başına ✗ konacaktır. Buna göre tablonun son görünümü nasıl olur?

A)	✗	B)	✗	C)	✓
	✓		✓		✗
	✓		✗		✓

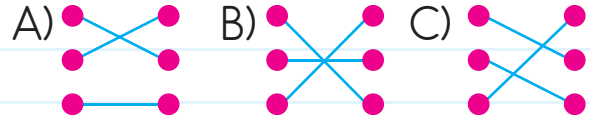
2. Mustafa Kemal Atatürk tarafından tüm çocuklara armağan edilen bu güzel günün diğer önemi de Türkiye Büyük Millet Meclisinin açıldığı gün olmasıdır.

Yukarıda sözü edilen millî bayram hangisidir?

- A) 30 Ağustos Zafer Bayramı
- B) 29 Ekim Cumhuriyet Bayramı
- C) 23 Nisan Ulusal Egemenlik ve Çocuk Bayramı



Yukarıdaki görsellerde yer alan ürünler, elde edildikleri maddelerle eşleştirilirse şeklin görüntüsü nasıl olur?



4. • Toprağı ekip biçerek geçimini sağlayan kişi kimdir?  
• Paketli gıdalar nerede üretilir?

Yukarıdaki soruların cevapları sırasıyla hangisidir?

- A) bahçıvan - kasap
- B) çiftçi - fabrika
- C) veteriner - otel

1

Doğada Hayat  
Bitkiler ve Hayvanlar

Tarih: \_\_\_/\_\_\_/\_\_\_

Puan: \_\_\_\_\_



- Fidan dikme aşamaları aşağıda karışık olarak verilmiştir. Cümleleri numaralandırarak aşamaları sıraya koyunuz.

- Fidan çukura dik olarak yerleştirilir.
- Çukur toprakla doldurulur.
- Fidana can suyu verilir.
- Toprak kazılarak bir çukur açılır.
- Üzerine elle bastırarak sağlamlaştırılır.



- Aşağıdaki cümlelerde boş bırakılan yerlere uygun sözcükleri yazınız. Sözcüklerin üzerinde bulunan harfleri sırayla şifre kutusuna yazıp şifreyi bulunuz.

K	i	B	T	i
bitkiler	havaya	bozmamalıyız	çevre kirliliği	etle

1. Kuşların ve karıncaların yuvalarını \_\_\_\_\_.
2. Bitkiler yaşayabilmek için \_\_\_\_\_ ihtiyaç duyarlar.
3. \_\_\_\_\_ hem bitkilere hem de canlılara zarar verir.
4. \_\_\_\_\_ havayı temizler.
5. Aslan, tilki gibi hayvanlar \_\_\_\_\_ beslenir.

Şifre Ne?

1	2	3	4	5

TEST 5

2

Adı: \_\_\_\_\_

Tarih: \_\_\_/\_\_\_/\_\_\_

Puan: \_\_\_\_\_



- 1.
- |  |
|--|
| Bitkiler, doğayı güzelleştirir ve havayı temizler.                 |
| Hayvanlara zarar vermemeliyiz, onlara zarar verenleri uyarmalıyız. |
| Yediğimiz meyve ve sebzeleri bitkilerden elde ederiz.              |

Yukarıdaki ifadelerden doğru olanların bulunduğu kutucuk işaretlenirse, şeklin görüntüsü hangisi gibi olur?

- A) 

✓
✓

 B) 

✓

 C) 

✓
✓
✓

2.



- 1 Yiyecek  
2 Oksijen  
3 Su

Yukarıdaki bitkinin yaşaması için gerekli olan şartlar hangileridir?

- A) Yalnız 1 B) 2 ve 3 C) 1 ve 3

3.

Etle Beslenen Hayvanlar



Yukarıdaki hangi hayvan tabloya uygun **değildir**?

- A) B) C)

4.

- \_\_\_\_\_ Dünya'nın oksijen deposudur.
- Aslan, tilki gibi hayvanlar \_\_\_\_\_ beslenir.
- Bazı bitkiler \_\_\_\_\_ olarak da kullanılır.

Yukarıdaki cümlelerde boş bırakılan yerlere sırasıyla hangi sözcükler gelmelidir?

- A) Bitkiler - ota - yiyecek  
B) Denizler - ota - süs  
C) Ormanlar - etle - ilaç

1

Doğada Hayat  
Doğal Unsurlar, Geri Dönüşüm

Tarih: \_\_\_/\_\_\_/\_\_\_

Puan: \_\_\_\_\_



- Aşağıdaki sözcükleri "Doğal Unsur" veya "Beşerî Unsur" tablolarından uygun olanına yazalım.

Ağaçlar

Deniz

Baraj

Park

Köprüler

Bina

Dağ

Havuz

Orman

Göl

Toprak

Şehir

Doğal Unsurlar

Beşerî Unsurlar

- Hangi maddelerin çöp, hangi maddelerin geri dönüşüm olduğunu belirleyiniz. Buna göre görselleri uygun çöp kovasıyla eşleştiriniz.





TEST 6

2

Adı: \_\_\_\_\_

Tarih: \_\_\_/\_\_\_/\_\_\_

Puan: \_\_\_\_\_



Yukarıdaki görsellerden hangi numara ile gösterilenler doğal unsurdur?

- A) 1 ve 2 B) 2 ve 3 C) 1 ve 3

2.	Su kaynaklarına yakın yerler	Ulaşımı kolay olan yerler
	Yüksek dağların olduğu yerler	Tarıma elverişsiz yerler

Yukarıdaki tablodan insanların yaşam alanları olarak daha çok tercih edilen yerler işaretlenirse şeklin görüntüsü nasıl olur?

- A) 

	✓
	✓

 B) 

✓	
	✓
- C) 

✓	✓



Yukarıdaki bitkiler için hangisini söyleyemeyiz?

- A) Çay bitkisi nemli ve yağışın bol olduğu ortamı sever.  
B) Çay bitkisi sıcak iklimde yetişir.  
C) Kaktüs bitkisi susuzluğa dayanabildiği için sıcak iklimde yetişir.

4. Cenk ve Sevgi geri dönüşümle ilgili aşağıdaki ifadeleri söylüyorlar.

**Cenk:** Kâğıt gibi atıklar geri dönüşüm ile yeniden kullanılabilir.

**Sevgi:** Pil gibi atıklar geri dönüşüm için kullanılmaz.

Buna göre Cenk ve Sevgi'nin söylediği cümleler için hangisi söylebilir?

- Cenk** **Sevgi**
- A) Doğrudur. Yanlıştır.  
B) Yanlıştır. Yanlıştır.  
C) Doğrudur. Doğrudur.

1

## Doğada Hayat

Güneş ve Yönler, Dünya'nın Şekli ve Hareketleri,  
Doğal Afetler, Önlem Alabiliriz

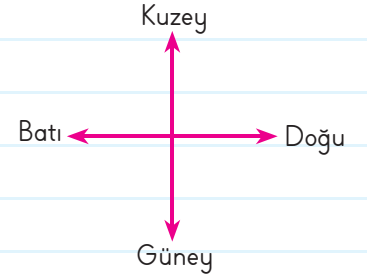
Tarih: \_\_\_/\_\_\_/\_\_\_

Puan:



- Aşağıdaki cümlelerdeki noktalı yerleri, verilen krokiye göre yön adlarıyla tamamlayınız.

Fırın	Hastane	PTT	Gül Sokak	Taksi Durağı
Karanfil Caddesi				
Park	Sümbül Sokak	Cumhuriyet İlkokulu	Eczane	Kırtasiye



- ❖ PTT, fırının \_\_\_\_\_dir.
- ❖ Cumhuriyet İlkokulu, eczanenin \_\_\_\_\_dir.
- ❖ Taksi durağı, kırtasiyenin \_\_\_\_\_dir.
- ❖ Park, fırının \_\_\_\_\_dir.

- Aşağıdaki cümlelerde boş bırakılan yerlere uygun sözcükleri yazınız.

1. Dünya'nın kendi etrafında dönmesi sonucu \_\_\_\_\_ ve \_\_\_\_\_ yaşanır.
2. Dünya, Güneş etrafında dolanma hareketini \_\_\_\_\_ tamamlar.
3. Bir yılda \_\_\_\_\_ ay vardır.
4. Dünya'nın Güneş etrafında dolanması sonucu \_\_\_\_\_ oluşur.
5. Dünya kendi etrafında dönmesini \_\_\_\_\_ tamamlar.
6. Aralık, ocak \_\_\_\_\_ mevsimi aylarıdır.
7. Temmuz, ağustos \_\_\_\_\_ mevsimi aylarıdır.
8. Eylül, ekim \_\_\_\_\_ mevsimi aylarıdır.



mevsimler

on iki

bir yılda

gündüz

bir günde

kış

gece

yaz

sonbahar

## TEST 7

2

Adı: \_\_\_\_\_

Tarih: \_\_\_/\_\_\_/\_\_\_

Puan: \_\_\_\_\_



1. Kuzeydoğu, kuzeybatı ana yönlerdir.  
Yönleri bulmak için pusuladan yararlanırız.  
Önümüzü Güneş'in doğduğu yöne dönersek sol kolumuz kuzeyi gösterir.

Yukarıdaki ifadelerden doğru olana ✓ işareti, yanlış olana ✗ işareti konulursa hangi şekil ortaya çıkar?

- A) 

✓
✓
✗



 B) 

✗
✓
✓

 C) 

✓
✗
✓

3. 

• Mart		• Aralık	
• Şubat		• Ocak	
• Mayıs		• Nisan	

Yukarıdaki görsellerdeki mevsimlerin ayları karışmış. Görselin doğru olması için hangi ayların yerleri değişmelidir?

- A) Mart - Nisan  
B) Mart - Aralık  
C) Şubat - Nisan

4.



Bir deprem çantasına yukarıdaki hangisi konulabilir?

- A) 1 ve 3 B) Yalnız 2  
C) 1, 2 ve 4

1

## Doğada Hayat

Doğa Olayları, Doğal Afetler, Önlem Alabiliriz

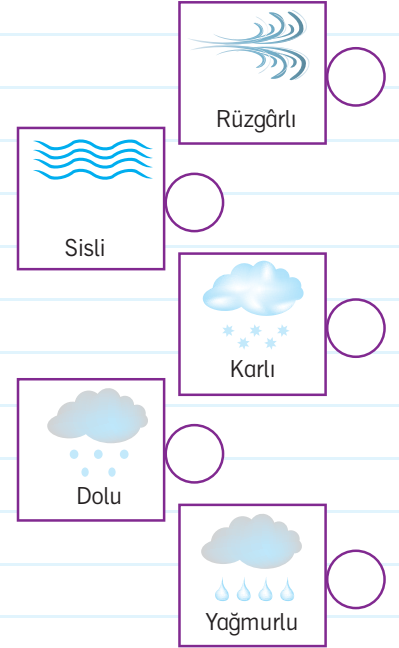
Tarih: \_\_\_/\_\_\_/\_\_\_

Puan: \_\_\_\_\_



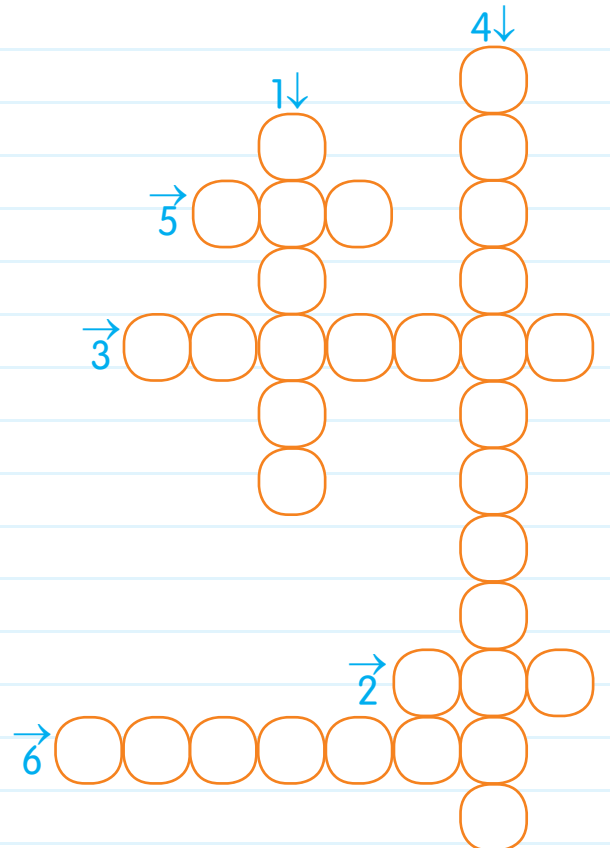
- Aşağıdaki cümlelerin başındaki numaraları doğru hava durumunun yanındaki yuvarlağa yazınız.

1. Havada bulunan su buharının soğuk hava ile karşılaşması sonucunda yeryüzüne su damlacıkları hâlinde düşmesidir.
2. Yüksek bulutlardaki su damlacıklarının soğuk havanın etkisiyle buz taneciklerine dönüşmesidir.
3. Sıcak hava ile soğuk havanın yer değiştirmesidir.
4. Nemli hava yeryüzüne yakın yerlerde soğuduğu zaman oluşur. Görüş alanımızı engelleyen doğa olayıdır.
5. Su buharının bulutlardan yeryüzüne inerken soğuk hava ile karşılaşp katılaşması ve buz toplarına dönüşmesiyle oluşur.



- Aşağıdaki bulmacayı çözünüz.

1. Yer kabuğunun kırılması sonucu oluşan doğal afettir.
2. Büyük kar kütlelerinin çevreye zarar vermesiyle oluşan doğal afettir.
3. Şiddetli esen rüzgârdır.
4. İnsanların sorumsuz davranışları ya da yıldırım düşmesi sonucu oluşur.
5. Yağmurların aşırı yağması sonucu oluşur.
6. Aşırı yağış sonucu eğimli yerlerde toprağın kaymasıdır.



## TEST 8

2

Adı: \_\_\_\_\_

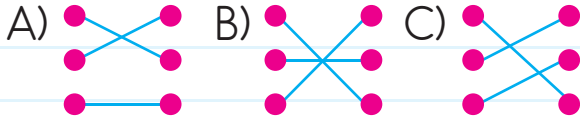
Tarih: \_\_\_/\_\_\_/\_\_\_

Puan: \_\_\_\_\_



1. Yer sarsıntısıdır. Çiğ
- Kar kütlelerinin yamaçtan aşağıya doğru hızla kaymasıdır. Sel
- Şiddetli yağışların oluşturduğu su baskınlarıdır. Deprem

Yukarıdaki doğal afetleri tanımları ile eşleştirirsek hangisi doğru olur?



MUTLU® YAYINCILIK

3. Aşağıdakilerden hangisinde verilenlerin tümü doğal afettir?

- A) • Yağmur  
• Sis  
• Deprem
- B) • Dolu  
• Çiğ  
• Sel
- C) • Sel  
• Çiğ  
• Deprem

4. Isınan havanın soğuk hava ile yer değiştirmesi sonucu hangi doğa olayı oluşur?

- A) Rüzgâr B) Dolu C) Sis

5. 1 Pilot 2 Kaptan  
3 Mimar 4 Çiftçi  
5 Doktor

2. Su buharı gökyüzünde soğuk hava dalgasıyla karşılaşınca yoğunlaşır ve katılaşır. Yere \_\_\_\_\_ olarak iner.

Yukarıdaki cümlede boşluğa hangi doğa olayının adı gelmelidir?

- A) kar B) yağmur C) dolu

Hava olayları yukarıdaki mesleklerden hangilerini etkilemez?

- A) 1 ve 4 B) 3 ve 5 C) 2 ve 3

## MATEMATİK YANIT ANAHTARI

	1	2	3	4	5	6
Test 1	B	C	B	A	B	
Test 2	A	C	B	B	B	
Test 3	C	B	B	A		
Test 4	B					
Test 5	C	B	A	B	C	
Test 6	A	B	C	B	B	
Test 7	B	C	B	A	A	
Test 8	A	B	B	C	B	

## TÜRKÇE YANIT ANAHTARI

	1	2	3	4	5	6
Test 1	C	C	C			
Test 2	B	B	A			
Test 3	A	A	B			
Test 4	C	C	B			
Test 5	A	A	B			
Test 6	B	C	B			
Test 7	B	C	C			
Test 8	B	A	C			

## HAYAT BİLGİSİ YANIT ANAHTARI

	1	2	3	4	5	6
Test 1	B	B	B	C		
Test 2	C	B	C			
Test 3	A	C	B	A		
Test 4	C	C	C	B		
Test 5	C	B	C	C		
Test 6	B	C	B	A		
Test 7	B	B	C	C		
Test 8	C	C	C	A	B	





Akıllı Tahta Uygulamasını "e-mutlu.com" dan İndirebilirsiniz

www.e-mutlu.com

0850 800 32 14



Avcı Serisi  
**10** Kitap



**MUTLU YAYINCILIK**

Yakuplu Mah. 228. Sk. Ata İş Merkezi Nu.: 14 Kat: 2

Beylikdüzü / İSTANBUL