

D Yeni Nesil
Dene



2
Sınıf

Bakalım

Okulda Öğrendiklerim



Çıktı Alıp Evde Uygulayabilirsiniz.

- Matematik
- Türkçe
- Hayat Bilgisi



MUTLU YAYINCILIK

ADI, SOYADI: _____

TARİH: _____

SINIFI: _____

ÖĞRENCİ CEVAP KÂĞIDI

MATEMATİK

1	(A)	(B)	(C)
2	(A)	(B)	(C)
3	(A)	(B)	(C)
4	(A)	(B)	(C)
5	(A)	(B)	(C)
6	(A)	(B)	(C)
7	(A)	(B)	(C)
8	(A)	(B)	(C)
9	(A)	(B)	(C)
10	(A)	(B)	(C)
11	(A)	(B)	(C)
12	(A)	(B)	(C)
13	(A)	(B)	(C)
14	(A)	(B)	(C)
15	(A)	(B)	(C)
16	(A)	(B)	(C)
17	(A)	(B)	(C)
18	(A)	(B)	(C)
19	(A)	(B)	(C)
20	(A)	(B)	(C)

TÜRKÇE

1	(A)	(B)	(C)
2	(A)	(B)	(C)
3	(A)	(B)	(C)
4	(A)	(B)	(C)
5	(A)	(B)	(C)
6	(A)	(B)	(C)
7	(A)	(B)	(C)
8	(A)	(B)	(C)
9	(A)	(B)	(C)
10	(A)	(B)	(C)
11	(A)	(B)	(C)
12	(A)	(B)	(C)
13	(A)	(B)	(C)
14	(A)	(B)	(C)
15	(A)	(B)	(C)
16	(A)	(B)	(C)
17	(A)	(B)	(C)
18	(A)	(B)	(C)
19	(A)	(B)	(C)
20	(A)	(B)	(C)

HAYAT BİLGİSİ

1	(A)	(B)	(C)
2	(A)	(B)	(C)
3	(A)	(B)	(C)
4	(A)	(B)	(C)
5	(A)	(B)	(C)
6	(A)	(B)	(C)
7	(A)	(B)	(C)
8	(A)	(B)	(C)
9	(A)	(B)	(C)
10	(A)	(B)	(C)
11	(A)	(B)	(C)
12	(A)	(B)	(C)
13	(A)	(B)	(C)
14	(A)	(B)	(C)
15	(A)	(B)	(C)
16	(A)	(B)	(C)
17	(A)	(B)	(C)
18	(A)	(B)	(C)
19	(A)	(B)	(C)
20	(A)	(B)	(C)



1. İstanbul, şehrin tam merkezinden deniz geçen tek şehirdir.

- ✓ Üsküdar'dan Beşiktaş'a, 1 günde 4 düzine motor sefer yaparak yolcu taşımaktadır.



Buna göre, bir günde kaç tane motor Üsküdar'dan Beşiktaş'a sefer yapmaktadır?

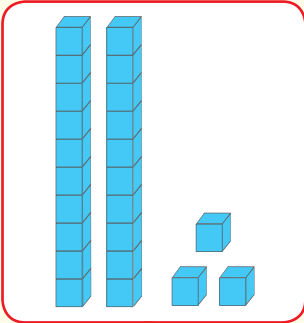
A) 30

B) 36

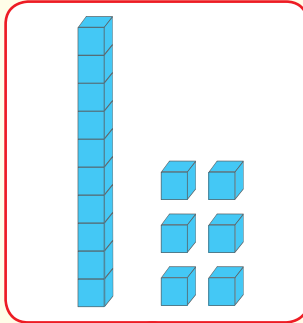
C) 48



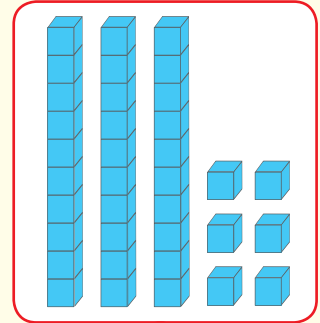
2.



A



K



T

Yukarıdaki onluk ve birliklerle modellenen sayıları küçükten büyüğe sıralarsak hangi sözcük oluşur?

A) TAK

B) KAT

C) ATK

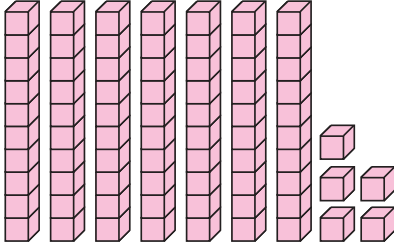
3.

1 - 4 - 7 - 10 - 13 - 16

Yukarıdaki örüntünün kuralı, aşağıdaki örüntülerden hangisinin kuralı ile aynıdır?

- A) 30 - 27 - 24 - 21 - 18
B) 5 - 7 - 9 - 11 - 13
C) 22 - 25 - 28 - 31 - 34

4.



Taban bloklarıyla modellenen sayının en yakın onluğa yuvarlanmış hâli hangisidir?

- A) 60 B) 70 C) 80

MUTLU
YAVINCLIK

5.

Kitaplıktaki 76 kitabın 3 düzinesi öykü kitabıdır, kalanlar ise masal kitabıdır. Buna göre kitaplıkta kaç deste masal kitabı vardır?

- A) 3 B) 4 C) 5

6.

Aşağıdakilerden hangisi yanlıştır?

- A) Çıkarma işlemindeki en büyük terim eksilendir.
B) Çıkarma işlemi azaltma yapmak için kullanılır.
C) Çıkarma işlemi ileriye doğru saymanın kısa yoludur.



7. İstanbul'un tam 39 tane ilçesi vardır. Buna göre; İstanbul'daki ilçe sayısından bir önce gelen doğal sayı ile 39 sayısından iki sonra gelen doğal sayının toplamı, hangi sayıdan 1 fazladır?

A)

80

B)

79

C)


78

Gerçek Bilgi





8.



Yukarıdaki eşitliklere göre bir elma kaç tane mandalinaya eşittir?

A) 1

B) 2


C) 3



9.

Aşağıdaki kaplar tamamen süt ile doludur. Güneş, kapların her birinden birer bardak süt alıp içmiştir. Sonra kaplara baktığında farklı seviyelerde azalma olduğunu görmüştür.

Güneş'e "Hangi kaptaki süt seviyesi daha çok düştü?" diye sorarsak hangi seçeneğini söyler?



10. Bir sınıfta 21 erkek öğrenci, erkek öğrencilerin 7 eksiği kadar kız öğrenci vardır. Bu sınıfta toplam kaç öğrenci vardır?

A) 35

B) 27

C) 14

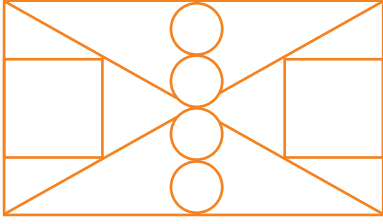
11. Bir sürahi 8 bardak su alıyor. 21 bardak su 3 sürahiye boşaltıldığında eksik kalan sürahiyi tamamlamak için kaç bardak su gerekir?

A) 4

B) 3

C) 2

12.



Yukarıdaki şekilde hiç kenarı olmayan ve dört kenarı olan şekillerin toplamı kaçtır?

- A) 5 B) 6 C) 7

13. Aşağıdaki sürahi tamamen su ile doludur. Bu sürahinin içerisindeki suyun tamamı kullanılarak yanındaki bardaklar ağzına kadar su ile doldurulmuştur.



Sürahide başlangıçta kaç bardak su vardı?

- A) 12 B) 14 C) 16

MUTLU YANINCLIK

14.

Cebimde bir miktar para vardır. Dedem bana 25 TL verince cebimde 43 TL oluyor.

Annem de bana cebimde ilk başta olan paranın 32 TL fazlasını verdiğinde en son kaç param olur?

- A) 76 B) 88 C) 93


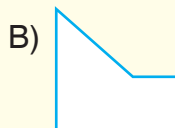


Gerçek Bilgi

15. Kurabiye, Persler tarafından milattan sonra 7. yüzyılda keşfedilmiştir. Bu keşif Perslerin şeker üretmeye ve sıkça kullanmaya başlamasından sonra gerçekleşmiştir.



Derste yukarıdaki bilgiyi öğrenen Tanem ile Sanem farklı şekillerde kurabiyeler yapıp pişireceklerdir. Aşağıdaki seçeneklerdeki gibi kurabiyeler yapan iki arkadaş hangi şekil kurabiyeyi iki tane eş parçaya **ayıramaz**?





1. İsmi'nin ilk harfi "A", son harfi "P" olan hayvan aşağıdakilerden hangisidir?

A)



B)



C)



2. Aşağıdaki sorulardan hangisi bir olayın sebebini bulmaya yöneliktir?

- A) Kardeşin okuldan saat kaçta gelecek?
- B) Onur ile annesi niçin doktora gittiler?
- C) Çocuklar nerede oyun oynuyorlar?

3.

.....?

Tamam oğlum, gidebilirsin.



Yukarıdaki konuşmada Bora, annesine hangi soruyu sormuş olabilir?

- A) Anneciğim, benimle parka gelir misin?
- B) Anneciğim, parka nasıl gidebilirim?
- C) Anneciğim, parka gidebilir miyim?

MUTLU YANILIK



4.



Seda

Kahvaltıda süt bitki çayı içerim.

Seda'nın cümlesindeki noktalı yer aşağıdaki kelimelerle doldurulacaktır. Hangi seçenekteki kelimelerin ikisi de cümleyi anlamlı şekilde tamamlar?

A) ya da - için

B) veya - ile

C) de - ve



5. Ağabeyim uzun boylu değilim ama ben de onun iyi basketbol oynayabiliyorum.

Yukarıdaki cümlede noktalı yerler aşağıdakilerle tamamlandığında hangisi dışta kalır?

- A) gibi B) kadar C) daha

6. 1. Yaz gelince bahçemizdeki çiçekler de açacak.
2. Ne bugün gelmediler ne de yarın...
3. Aradığımız kitabı ilçe kütüphanesinde bulduk.
4. Sonunda sınav günü gelip çatmıştı.

Yukarıdaki cümlelerden hangileri için "Anlamlı ve kurallıdır." diyebiliriz?

- A) 1, 2 ve 3 B) 1, 3 ve 4
C) 1, 2, 3 ve 4

7. 1. Okul kurallarına uygun davranırım.
2. Hasta olduğu için okula gelememiş.
3. Durakta yarım saat otobüs bekledik.

Kaç numaralı cümlede sebep-sonuç ilişkisi vardır?

- A) 1 B) 2 C) 3

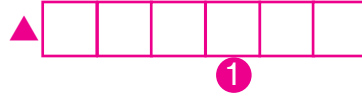
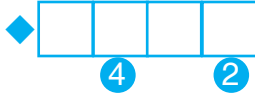
8. Bir memlekette küçük, güzel bir portakal ağacı varmış.

Cümlesinde hangi soruların yanıtı vardır?

- A) Nasıl? Kim?
B) Nerede? Ne?
C) Nerede? Ne Zaman?

9. Aşağıdaki sembollerde belirtilen sözcükleri kutuların uygun bölümlerine yazınız.

- ◆ "uzun" sözcüğünün zıt anlamlısı
 ▲ "fakir" sözcüğünün eş anlamlısı
 ★ "ıslak" sözcüğünün zıt anlamlısı



Anahtar Sözcük:

--	--	--	--

1234

Kutulardaki numaralanmış harfler "ANAHTAR SÖZCÜK" bölümüne yazılırsa aşağıdaki sözcüklerden hangisi oluşur?

A) SARI

B) SIRA

C) ASIR



10. Hangi soruya "Evet." ya da "Hayır." diye yanıt veremeyiz?

- A) Okuldan gelince derslerinizi tekrar eder misiniz?
 B) Bugüne kadar hangi eğitsel kulüplerde görev aldınız?
 C) Okulda kaynakları özenli kullanmaya dikkat eder misiniz?

11.

eski genç iri
 yeni yaşlı

Yukarıdaki sözcükler "zıt anlamlılar" olarak gruplanıyor. Hangisi grubun dışında kalır?

- A) yaşlı B) yeni C) iri

12.



Müge

Evimize gelen konuklardan biri bana hikâye kitabı hediye etti.


Müge'nin cümlesindeki altı çizili sözcüklerin eş anlamlıları hangi seçenekte verilmiştir?

- A) misafir - masal
 B) turist - roman
 C) misafir - öykü

Aslanın biri avlanmak için dolaşmaya başlamış, uyuyan bir tavşan görmüş.

O sırada oradan bir geyik geçmiş. Aslan, tavşanı bırakıp geyiğin peşine düşmüş.

Tavşan, gürültüden uyanıp hemen kaçmış. Aslan da geyiği uzaklara kadar kovalamış. Bir türlü yetişip yakalayamamış. Gelmiş gene tavşanı avlamaya. Ama tavşanı yerinde bulamamış.



Oh olsun bana! Elindeki avı bırakıp da elinde olmayanın peşinde koşarsan böyle olur.

Aisopos (Ezop)

13, 14 ve 15. soruları yukarıdaki metne göre yanıtlayınız.

13. Yukarıdaki metnin konusu nedir?

- A) Avlanmak isteyen bir aslanın avcılar tarafından yakalanması
- B) Bir aslanın ormandaki tüm hayvanlara sahip olmak istemesi
- C) Tavşan avlamak isteyen bir aslanın geyiğin peşine düşmesi

14. Tavşan, aslanın elinden nasıl kurtulmuş?

- A) Geyik ile iş birliği yaparak aslanı kandırmış.
- B) Aslana kendisini bırakması konusunda yalvarmış.
- C) Aslanın yaptığı gürültüden uyanarak kaçmış.

15. Metnin ana düşüncesi nedir?

- A) Elimizde olanın değerini bilmeliyiz.
- B) Tavşan avlamamalıyız.
- C) Ormana gittiğimizde dikkatli olmalıyız.



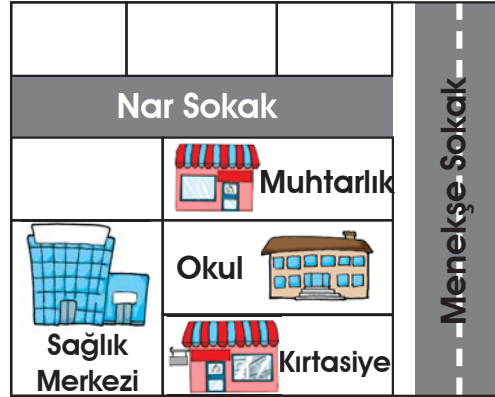
1. Merhaba Arkadaşım Ahmet,
Birbirimizi kolayca tanıyabilmemiz için sana biraz kendimi tanıtmak istiyorum. Saçlarım kıvırcıktır ve siyah renktedir. Alnım biraz açıktır.
Kaşlarım kalındır. Gözlerimin rengi siyahtır ve gözlerim büyüktür.
Burnum ve kulaklarım ise çok büyük değildir. Zayıfım ve uzun boylu olduğumu söyleyebilirim. Çünkü sınıfımızın boy cetvelinin ilk sırasında ben varım...



Burak, mektup arkadaşı Ahmet'e yukarıdaki gibi mektup yazıyor. Buna göre Burak, hangi özelliklerinden bahsetmiştir?

- A) Fiziksel özellikleri B) Karakteri C) Kişisel ilgi alanları

2.

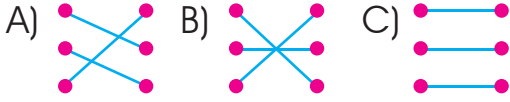


Nihal, arkadaşına okulunu tarif etmek istiyor. Buna göre Nihal, aşağıdakilerden hangisini söylediğinde **hatalı tarif yapmış olur?**

- A) Menekşe Sokak'ta yer almaktadır.
B) Yanında "Sağlık Merkezi" bulunmaktadır.
C) Nar Sokak'ta yer almaktadır.

3. **Dayı** • Babamızın ve annemizin babası
Hala • Annemizin erkek kardeşi
Dede • Babamızın kız kardeşi

Yukarıda verilen akrabaların tanımlamaları arasındaki doğru eşleştirme nasıldır?



4. Aşağıdakilerden hangisi kış mevsiminde yetişen sebzeler arasında yer alır?

- A) Pırasa
 B) Patlıcan
 C) Taze fasulye

5. İfade

	D	Y
Annem evde yokken tost makinesinde tost yapıyorum.		
İki saattir tablette oyun oynuyorum, şarjı bitti.		
Mikseri çalıştırmak için annemin gelmesini bekliyorum.		

Yukarıdaki tabloda verilen davranışlar doğru ise "D", yanlış ise "Y" kutusu işaretlenecektir.

Buna göre doğru işaretleme aşağıdakilerden hangisi gibi olmalıdır?

A)

D	Y
✓	
	✓
	✓

 B)

D	Y
	✓
	✓
✓	

 C)

D	Y
✓	
✓	
	✓



6. Zamanımız çok değerlidir. Bu yüzden zamanımızı doğru bir şekilde planlamalıyız.

Bir gününü planlamak isteyen Mert, aşağıdakilerden hangisini en son yapmalıdır?

- A) Kahvaltı yapıp dişlerimi fırçalarım.
 B) Dişlerimi fırçalayıp pijamalarımı giyerim.
 C) Okul servisine binerim.

7. Kararların ortak alındığı ailelere¹..... aile denir.
Aile için kararlar alınırken²..... da düşüncesi sorulmalıdır.

Yukarıdaki cümlelerde 1 ve 2 ile belirtilen boşluklara aşağıdakilerden hangileri yazılmalıdır?

- 1 2
- A) anlayışlı komşuların
B) demokratik çocukların
C) uyumlu büyüklerin

8. Demokratik ailelerde alınan kararlara ailenin tüm bireyleri katılır.
- D | Y
- ★
- Ortak alınan kararlar tüm aile bireylerini mutlu eder.
- D | Y
- ◆
-

Verilen ifadelerin doğru ya da yanlış olduğuna karar vererek ilerlediğimizde hangi sembole ulaşırız?

- A) ★ B) ◆ C) ■

9. Sağlıklı büyümek için istediğimiz saatte uyumalıyız.
- D | Y
- 1
- Dişlerimizi haftada bir defa fırçalamalıyız.
- D | Y
- 2 3

Yukarıdaki diyagramda doğru cevaplar takip edilerek ilerlendiğinde hangi çıkışa ulaşırız?

- A) 1 B) 2 C) 3

- 10.
- | | |
|--|--|
| 1. Kendimize yiyecek hazırlamak yerine açıkta satılan yiyeceklerden almayı tercih etmeliyiz. | 2. Katkı maddesi olmayan ürünleri almaya dikkat etmeliyiz. |
| 3. Çok sevdiğimiz ama pek de sağlıklı olmayan yiyecekleri her öğünde yemeliyiz. | 4. Kendimize doğal ve sağlıklı besinlerden oluşan öğün listeleri hazırlamalıyız. |




Yukarıdaki bilgi kartlarından kaç tanesinde doğru bilgi yazmaktadır?

- A) 2 B) 3 C) 4

www.e-mutlu.com

0850 800 32 14

GÜLE GÜLE KULLANIN



MUTLU YAYINCILIK

Yakuplu Mah. 228. Sok. Ata İş Merkezi No.: 14 Kat: 2
Beylikdüzü / İSTANBUL



Akıllı Tahta Uygulamasını "e-mutlu.com" dan indirebilirsiniz